

MUJERES, TRABAJO Y HOGAR

EL NOTICIERO ASTURIANO

Discriminación laboral

Gran parte de las mujeres trabajadoras tienen doble jornada: dentro y fuera del hogar. En el ámbito doméstico el reparto de las tareas no es equitativo y en el ámbito profesional todavía se producen desigualdades a pesar de que, en los últimos años, se ha avanzado mucho en los derechos de las mujeres.

Es frecuente que el sueldo medio de una mujer sea inferior al sueldo de un hombre de la misma categoría profesional. En algunas empresas una mujer gana las cuatro quintas partes del sueldo de un hombre....

La siguiente expresión relaciona los sueldos de los hombres y mujeres en la empresa ZYXSA

$$M = \frac{4}{5} H$$

1.- ¿Cuánto gana un hombre si el sueldo de una mujer de su misma categoría es 976 €?

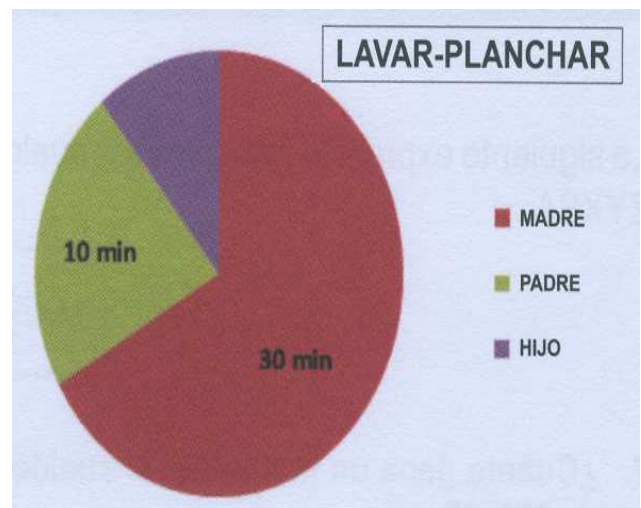
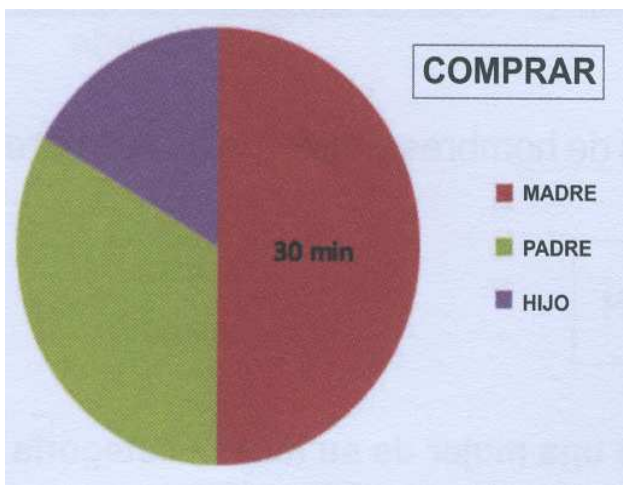
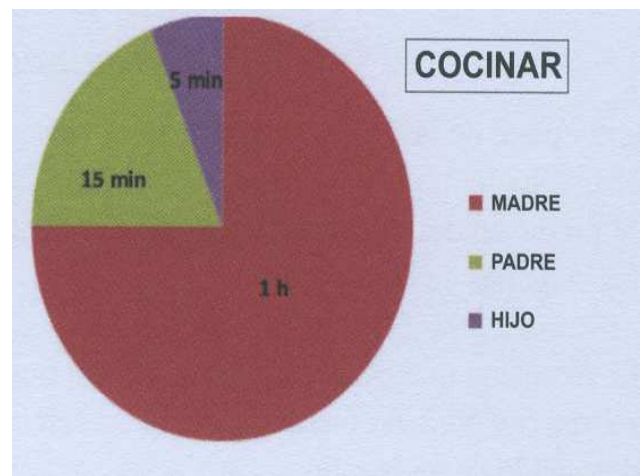
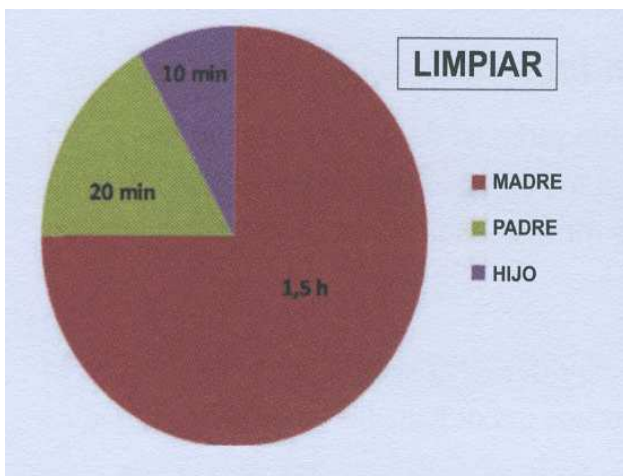
Respuesta:

2.- Los representantes sindicales de la empresa ZYXSA proponen que el sueldo de las mujeres suba un 20 %. ¿Esa propuesta evitaría la discriminación?

- A. Sí, con esa subida las mujeres ganarían más que los hombres.
- B. No, con esa subida los hombres ganarían menos que las mujeres.
- C. Sí, con esa subida el sueldo de las mujeres se igualaría al de los hombres.
- D. No, con esa subida las mujeres seguirían ganando menos que los hombres.

En muchas familias el reparto de las tareas del hogar no es equitativo. Las tareas domésticas siguen cayendo mayoritariamente sobre las mujeres, aunque trabajen fuera de casa.

Los siguientes gráficos muestran el tiempo diario que dedican los miembros de una familia a estas tareas:



3.- ¿Cuánto tiempo dedica diariamente la madre a todas las tareas representadas en los gráficos?

- A. 3 horas y 5 minutos
- B. 3 horas y 15 minutos
- C. 3 horas y 30 minutos
- D. 3 horas y 50 minutos

4.- Cada miembro de la familia dedica una media de 15 minutos al lavado y planchado de la ropa. ¿Cuánto tiempo dedica el hijo a esas tareas? Justifica tu respuesta:

Respuesta:

¿Ayudáis en casa?

La tabla recoge las respuestas de un grupo de 100 chicos y chicas.



5.- Completa la tabla:

Realizan tareas domésticas	Chicos	Chicas	Total
NO		15	
SI	10		
Total		50	100

6.- Si elegimos una chica al azar, ¿cuál es la probabilidad de que no realice tareas domésticas?

- A. 15 %
- B. 30 %
- C. 35 %
- D. 50 %